


11 listopada jest świętem narodowym i wolnym dniem od nauki w szkole. Dzieci z klasy II: Ela, Ola, Marek i Krzysio chcą spędzić razem ten czas. Zrobili zakupy w sklepie i spotkali się u Oli, aby obejrzeć uroczystości przy Grobie Nieznanego Żołnierza. Później pobawią się.



Obejrzyj dokładnie i przeczytaj, jakie zakupy zrobili, ile kosztował każdy z produktów.




**2 zł**




**2 zł**




**1 zł**



**5 zł**



**3 zł**



**13 zł**



**3 zł**



**7 zł (1 l)**



**6 zł (1 l)**

Karta pracy nr 2

Klasa 2 - listopad - blok 2 - dzień 2

Dzielimy zespół klasowy na 3 grupy. Każda grupa rozwiązuje po 3 zadania z treścią.  
Zapisuje działanie i odpowiedź. Po zakończeniu pracy, grupy wymieniają się wykonanymi zadaniami  
w celu sprawdzenia poprawności wykonania zadań – ocena koleżeńska.



### Zestaw I

#### Zadanie 1

Marek kupił wodę i zapłacił banknotem 10 zł. Ile otrzymał reszty?

Działanie.....

Odpowiedź.....

#### Zadanie 2

Ile złotych Krzysio zapłacił za 2 kg jabłek i 2 soki?

Działanie.....

Odpowiedź.....

#### Zadanie 3

Wyszukaj w sklepie ceny owoców i zapisz je od najwyższej do najniższej.

.....

### Zestaw II

#### Zadanie 1

Wyszukaj i oblicz, ile Ela zapłaciła za 1 lizaka i 1 kg winogron?

Działanie.....

Odpowiedź.....

#### Zadanie 2

Oblicz i zapisz, co Ola mogła kupić za 20 złotych?

Działanie.....

Odpowiedź.....



Karta pracy nr 2

Klasa 2 - listopad - blok 2 - dzień 2

### Zadanie 3

Wyszukaj w sklepie i napisz, o ile 1 litr wody jest tańszy od 1 l soku?



### Zestaw III

#### Zadanie 1

Marek kupił wszystkie słodycze ze sklepu i 1 sok. Ile zapłacił za wszystko?

Działanie .....

Odpowiedź .....

#### Zadanie 2

Ela za 20 złotych kupiła 2 produkty. Wyszukaj je i zapisz działanie.

Działanie .....

Odpowiedź .....

#### Zadanie 3

Krzysio za 20 złotych kupił gruszki. Ile kupił gruszek? Wyszukaj je i zapisz działanie.

Działanie.....

Odpowiedź.....